


## Sprawdzian 5 – kl. I - edukacja matematyczna – rząd 1

-----

1. Wpisz brakujące liczby na osi liczbowej.



0 ... 2 ... ... 5 ... 7 ... ... ..

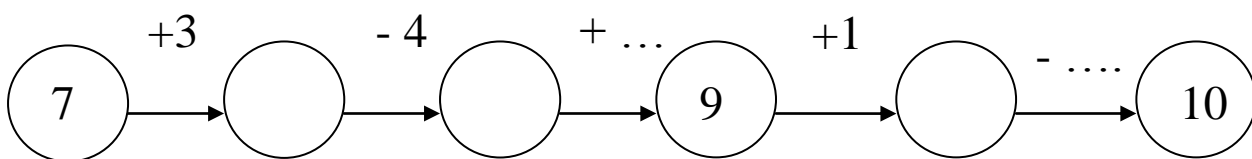
2. Wpisz brakujące liczby.

	8	
--	---	--

	5		
--	---	--	--

10		8
----	--	---

3. Oblicz.



4. Rozwiąż zadania.

Natalia włożyła do wazonu 4 żonkile i 5 tulipanów. Ile razem kwiatów jest w wazonie?


W wazonie razem jest  kwiatów.


.....  
Julka miała 9 bananów. 3 banany dała Oli. Ile bananów zostało Julce?


Julce zostało  bananów.



Sprawdzian 5 – kl. I - edukacja matematyczna – rząd 2

1. Wpisz brakujące liczby na osi liczbowej.



0 ... 2 ... ... 5 ... 7 ... ... ..

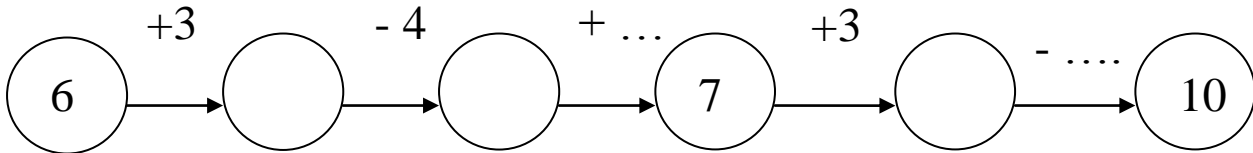
2. Wpisz brakujące liczby.

	6	
--	---	--

	3		
--	---	--	--

7		9
---	--	---

3. Oblicz.



4. Rozwiąż zadania.

Natalia włożyła do wazonu 3 żonkile i 5 tulipanów. Ile razem kwiatów jest w wazonie?


W wazonie razem jest  kwiatów.

.....  
Julka miała 7 bananów. 4 banany dała Oli. Ile bananów zostało Julce?


Julce zostało  bananów.

