

Sprawdzian 1 – edukacja matematyczna – rząd 1


.....

1. Narysuj:

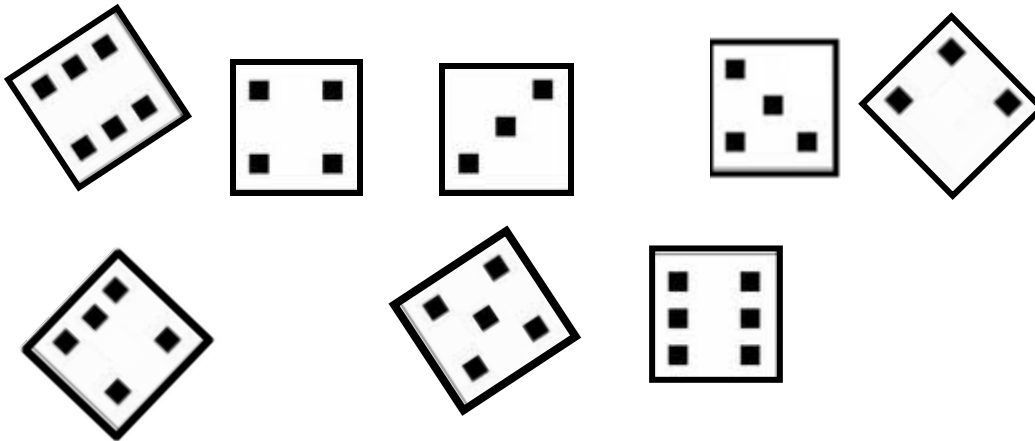
- budę dla psa po lewej stronie domu,
- psa po prawej stronie drzewa,
- słońce nad większą chmurą,
- kwiaty między domem a drzewem.




- ## 2. Pokoloruj: kwadrat na niebiesko, koło na żółto, prostokąt na zielono, trójkąty na czerwono.



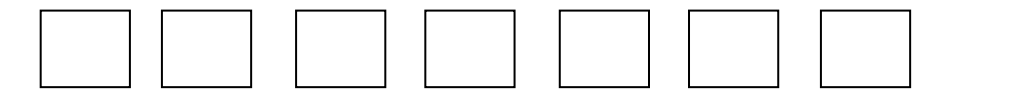
3. Policz kwadraty na kostkach. Połącz strzałkami kostki z taką samą liczbą kwadratów.



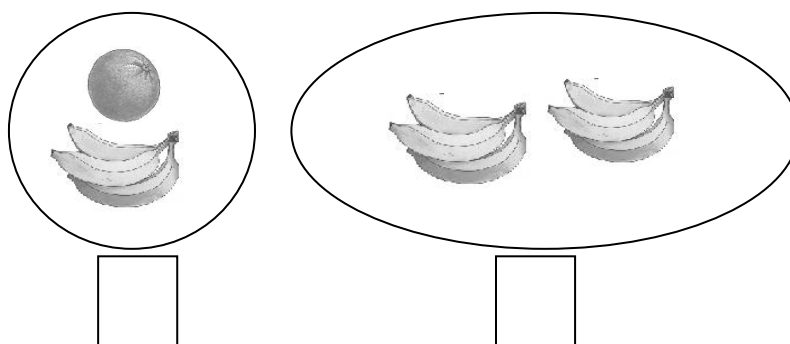
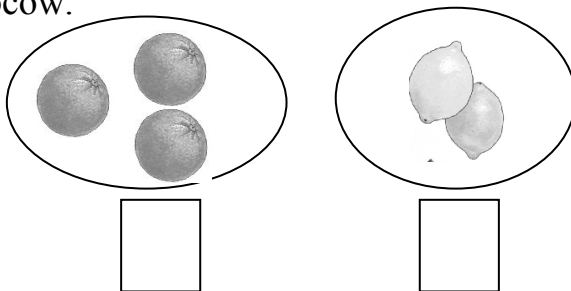
4. Pokoloruj drugą piłkę na zielono, piątą piłkę na niebiesko.



5. Pokoloruj dwa kwadraty na niebiesko, trzy na żółto i dwa na czerwono.



6. Sprawdź, których owoców w każdej parze jest więcej. Pokoloruj okienko pod większą ilością owoców.



Sprawdzian 1 – edukacja matematyczna – rząd 2


.....

1. Narysuj:

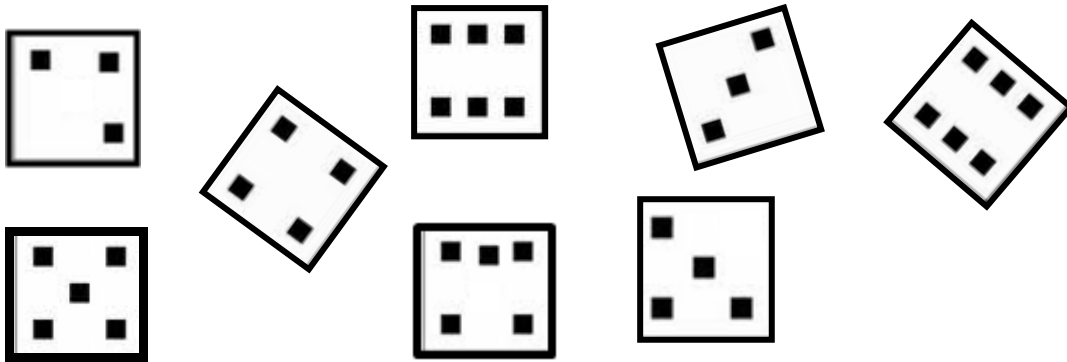
- budę dla psa po prawej stronie domu,
- psa po lewej stronie drzewa,
- słońce nad mniejszą chmurą,
- kwiaty obok budy.




2. Pokoloruj: kwadrat na zielono, koło na żółto, prostokąt na czerwono, trójkąty na niebiesko.



3. Policz kwadraty na kostkach. Połącz strzałkami kostki z taką samą liczbą kwadratów.



4. Pokoloruj drugą piłkę na zielono, piątą piłkę na niebiesko.



5. Pokoloruj dwa kwadraty na zielono, trzy na niebiesko i dwa na żółto.



6. Sprawdź, których owoców w każdej parze jest więcej. Pokoloruj okienko pod większą ilością owoców.

