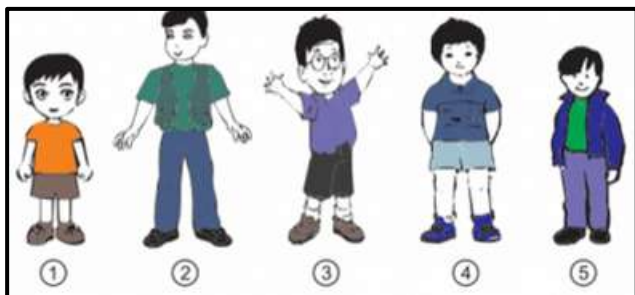


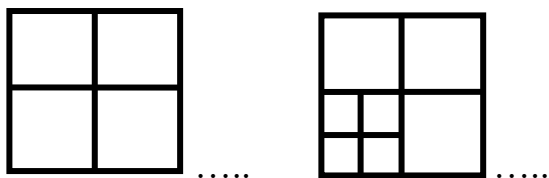
1. Na podstawie rysunku i wskazówek odnajdź Pawła i Piotrka.

- Paweł i Piotrek mają czarne włosy
- Paweł jest niższy od Piotrka
- Piotrek nie nosi okularów
- Piotrek i Paweł ubrani są w krótkie spodenki i koszulki.

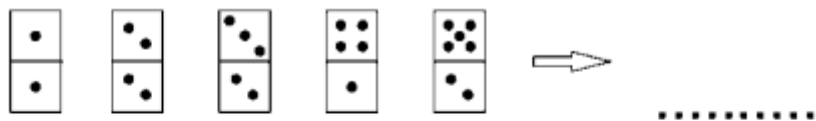


Paweł - **Piotrek -**

2. Ile kwadratów widzisz na rysunku?



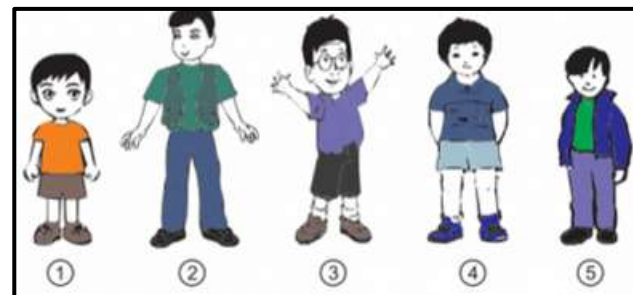
3. Która kostka domina będzie następną?



- A) B) C) D)

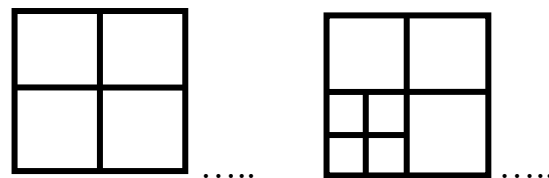
1. Na podstawie rysunku i wskazówek odnajdź Pawła i Piotrka.

- Paweł i Piotrek mają czarne włosy
- Paweł jest niższy od Piotrka
- Piotrek nie nosi okularów
- Piotrek i Paweł ubrani są w krótkie spodenki i koszulki.

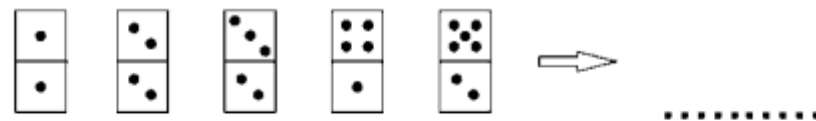


Paweł - **Piotrek -**

2. Ile kwadratów widzisz na rysunku?



3. Która kostka domina będzie następną?



- A) B) C) D)