



Napisz nazwy wartości nutowych.




.....

Napisz na pięciolinii tylko ćwierćnuty w odpowiednich miejscach.




do re mi fa sol la si do<sup>2</sup>

Napisz na pięciolinii tylko półnuty w odpowiednich miejscach.



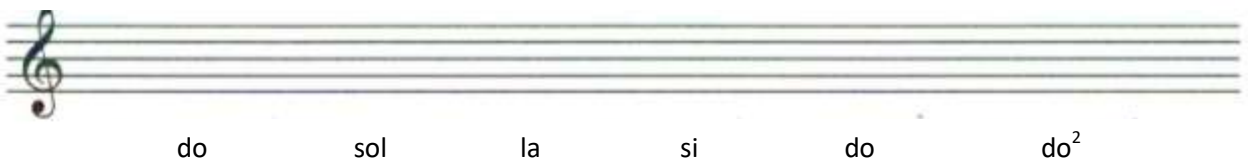
re mi re la si si do<sup>2</sup>

Napisz na pięciolinii tylko całe nuty w odpowiednich miejscach.




mi fa sol re si re fa sol

Napisz na pięciolinii tylko ósemki w odpowiednich miejscach.



do sol la si do do<sup>2</sup>

Napisz na pięciolinii tylko szesnastki w odpowiednich miejscach.



fa mi sol la fa do

