

Sprawdzian z matematyki - klasa 3

.....

1. Połącz działania z właściwymi wynikami.

1·8 3·8 5·8 8·8 9·8 2·8 4·8 7·8 6·8 10·8

80 8 24 40 56 72 16 32 48 64

2. Pokoloruj pola z wynikami równymi 24.

5·8 1·22 4·6

9·6 2·2 4·6 2·10 3·9 10·6 12·2 6·5 10·1

5·3 3·3 4·8 5·4 8·2 2·5 7·7 3·7

7·6 9·3 3·8 1·24 1·9 3·5 24·1

6·4 9·9 1·9 2·6

8·3 2·12

3. Rozwiąż zadanie tekstowe.

W ośmiu kartonach jest po 7 batonów. Ile batonów jest we wszystkich kartonach?

.....

Odp.:

4. Pokoloruj tym samym kolorem działanie i wynik.

9:9	36:9	54:9	27:9	81:9	72:9	18:9	45:9	63:9	90:9
-----	------	------	------	------	------	------	------	------	------

9	1	7	5	10	2	6	3	4	8
---	---	---	---	----	---	---	---	---	---

5. Rozwiąż zadanie tekstowe.

Na 7 jednakowych blaszkach babcia ułożyła 49 rogalików. Po ile rogalików było na każdej blaszce?

.....

Odp.:

6. Oblicz, pamiętaj o kolejności wykonywania działań.

$6 \cdot 7 + 27 = \dots\dots\dots$

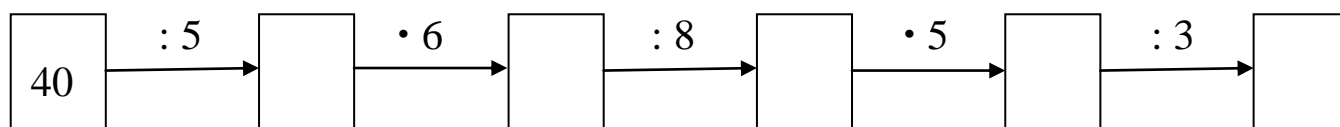
$8 \cdot 8 - 25 = \dots\dots\dots$

$68 - 4 \cdot 7 = \dots\dots\dots$

$20 + 18 : 9 = \dots\dots\dots$

$56 : 8 + 3 \cdot 5 = \dots\dots\dots$

7. Oblicz.



8. Rozwiąż zadanie tekstowe.

Do 4 wazonów babcia włożyła po 9 kwiatów, zaś do piątego włożyła 15 kwiatów. Ile jest razem kwiatów we wszystkich wazonach?



.....

Odp.:

9. Rozwiąż zadanie tekstowe.

W pudełku było 45 czekoladek. Pięcioro dzieci wzięło z pudełka po 4 czekoladek. Ile czekoladek zostało w pudełku?



.....

.....

Odp.:

**10. Zilustruj zadanie zgodnie z treścią. Podkreśl poprawne obliczenie.
Napisz wynik i odpowiedź.**

Na 4 małych półkach leży 28 książek, na każdej półce po tyle samo. Na dużej półce leży 17 książek. Zdjęto książki z półki dużej i z jednej półki małej. Ile książek zdjęto?



Miejsce na obliczenia:

$28 : 4 + 17 =$

$28 : 4 - 17 =$

$28 - 17 : 4 =$

Odp.: