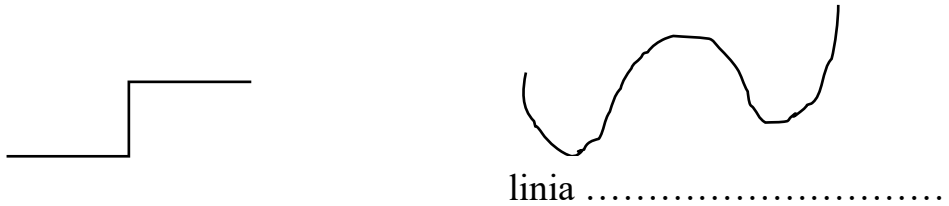



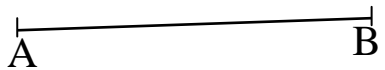
# Sprawdzian – edukacja matematyczna- klasa 3

.....

1. Nazwij figury geometryczne



linia .....



.....


2. Zmierz i zapisz długość odcinków.




AB.....



GH.....




CD.....



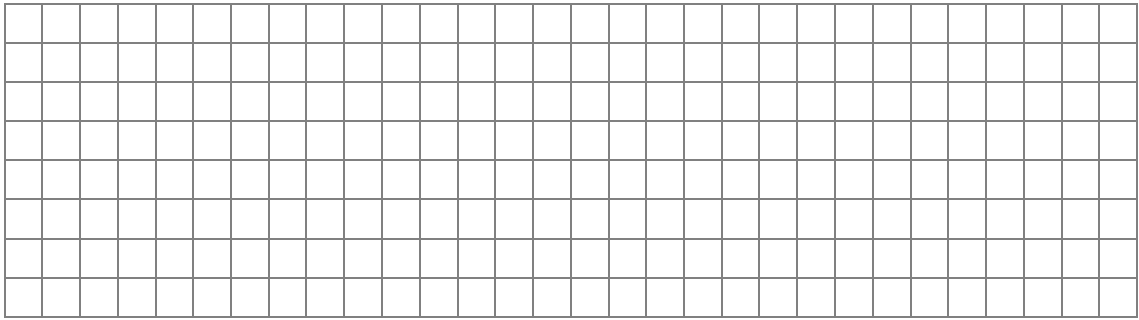
EF.....

3. Wypisz nazwy odcinków, jakie narysowano. Jest ich 6.



.....


4. Narysuj odcinki. Nazwij je.



$AB = 10 \text{ cm}$      $CD = 2 \text{ cm } 5 \text{ mm}$      $EF = 7 \text{ cm } 8 \text{ mm}$      $GH = 6 \text{ cm } 2 \text{ mm}$

5. Narysuj odcinki:

- MN o 10 cm dłuższy od odcinka CD
- KL o 2 mm krótszy od odcinka GH



6. Zamień jednostki

$$3 \text{ cm} = \dots\dots \text{ mm}$$

$$2 \text{ cm } 5 \text{ mm} = \dots\dots \text{ mm}$$

$$6 \text{ cm } 4 \text{ mm} = \dots\dots \text{ mm}$$

$$3 \text{ cm } 10 \text{ mm} = \dots\dots \text{ mm}$$

$$20 \text{ mm} = \dots\dots \text{ cm}$$

$$60 \text{ mm} = \dots\dots \text{ cm}$$

$$100 \text{ mm} = \dots\dots \text{ cm}$$

$$35 \text{ mm} = \dots\dots \text{ cm } \dots\dots \text{ mm}$$