

Edukacja przyrodnicza – sprawdzian- kl. 3

.....

1. Wpisz do tabeli nazwy roślin uprawnych.

Rośliny zbożowe	Rośliny okopowe	Rośliny włókniste	Rośliny oleiste
1.....	1.	1.	1.
2.....	2.	2.....	2.
3.....	3.	3.....	3.
4.....	4.	4.	4.....

2. Zaznacz poprawną odpowiedź

Co otrzymujemy z buraków cukrowych?

olej	frytki	cukier	kaszę
------	--------	--------	-------

Z czego robi się mąkę?

z rzepaku	z bawełny	ze zboża	z lnu
-----------	-----------	----------	-------

Z jakiej rośliny zrobimy frytki?

pietruszka	ziemniak	konopia	żyto
------------	----------	---------	------

Z jakiej rośliny otrzymujemy olej?







rzepak	marchew	burak	owies
--------	---------	-------	-------

3. Co wytwarza się z roślin włóknistych? Napisz 4 przykłady.

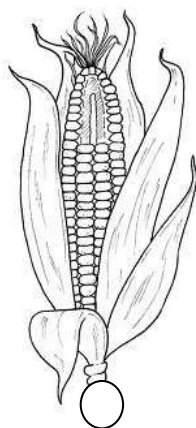
.....

4. Ponumeruj rysunki zgodnie z kolejnością zdarzeń.

O ziarenka do bochenka

mielenie ziarna	wzrost zboża	zbiór zboża
		
<input type="radio"/>	<input type="radio"/>	<input type="radio"/>
kupowanie chleba	siew	pieczenie chleba
		
<input type="radio"/>	<input type="radio"/>	<input type="radio"/>

5. Połącz obrazek zboża z odpowiednią nazwą kwiatostanu.



kłos	wiecha	kolba
------	--------	-------