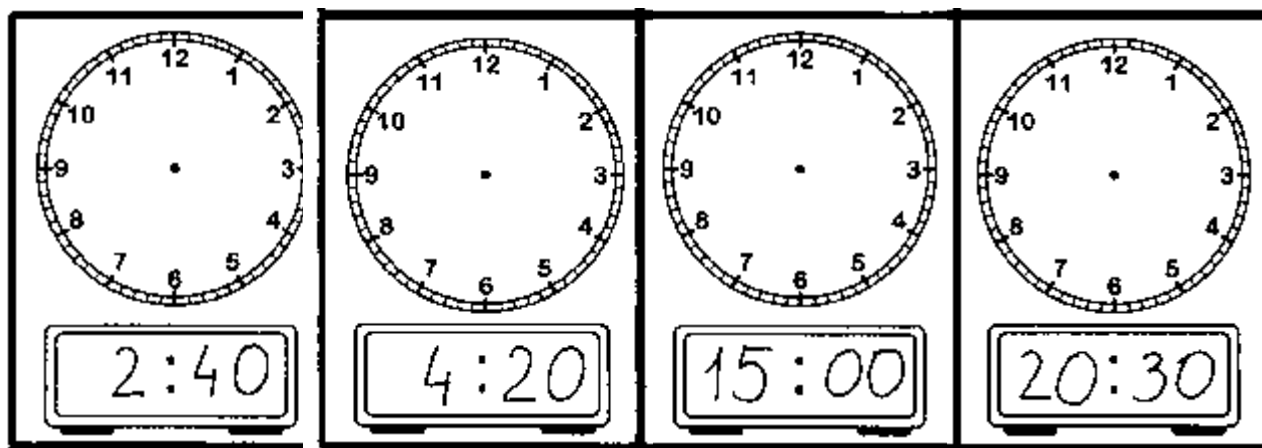


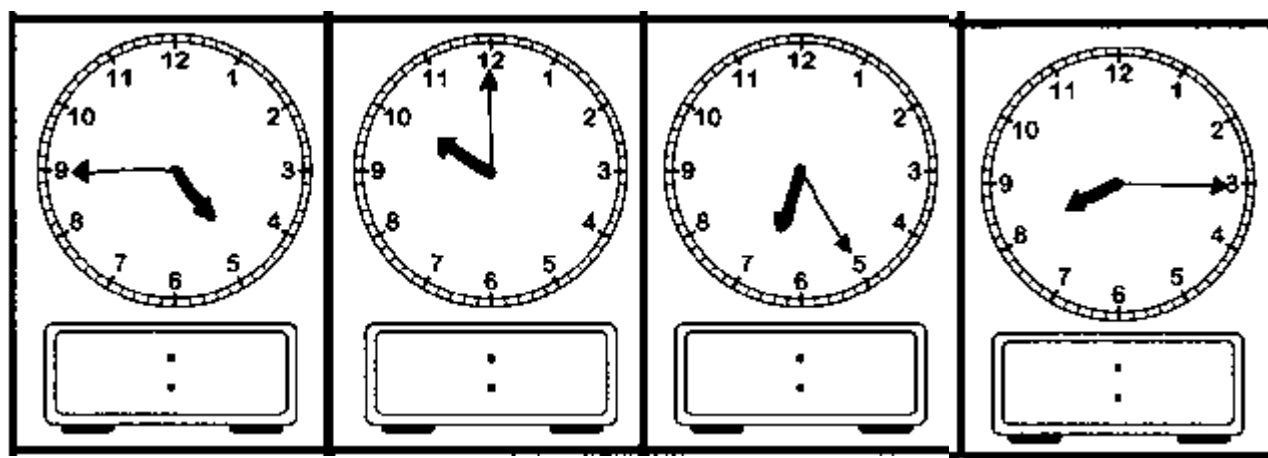
## Sprawdzian klasa 3 -- edukacja matematyczna

.....

1. Zaznacz na zegarze wskazówkowym podaną godzinę.



2. Napisz, która jest godzina?



3. Oblicz, ile mija godzin, minut.

Od 4.00 do 13.00 mija ..... godz.

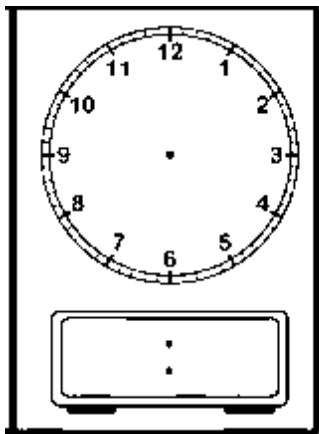
Od 8.20 do 8.55 mija ..... min.

Od 6.30 do 11.45 mija ..... godz. .... min.

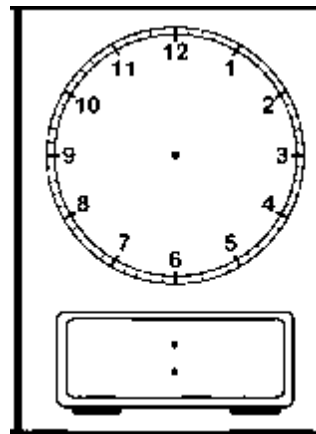
Od 9.00 rano do pierwszej po południu mijają ..... godz.

**4. Rozwiąż zadania. Zaznacz godziny na zegarach.**

Kasia poszła na zakupy o godzinie 10.00. Spędziła w sklepie dwie godziny. O której godzinie Kasia wróciła do domu? Zaznacz tę godzinę na zegarze.



Jaś poszedł do biblioteki o godzinie 16.30. Wrócił do domu pół godziny później. O której godzinie wrócił Jaś? Zaznacz tę godzinę na zegarze.



**5. Zapisz daty poznanymi sposobami.**

9 września	14 lutego	23 kwietnia	19 grudnia

**6. Uporządkuj daty od najwcześniejszej.**

<input type="radio"/> 11 listopada	<input type="radio"/> 4.12	<input type="radio"/> 21.07	<input type="radio"/> 18 sierpnia
------------------------------------	----------------------------	-----------------------------	-----------------------------------

<input type="radio"/> 2 XI	<input type="radio"/> 15 IV	<input type="radio"/> 17 IX	<input type="radio"/> 7 VI
----------------------------	-----------------------------	-----------------------------	----------------------------