

**Sprawdzian – klasa 2**  
**Edukacja matematyczna**

.....

**1. Napisz, jakie to liczby.**

5 dziesiątek 0 jedności to .....

9 dziesiątek 9 jedności to .....

7 jedności 5 dziesiątek to .....

7 dziesiątek 0 jedności to .....

**2. Wykonaj obliczenia.**

$52 + 20 = \dots$      $43 + 5 = \dots$      $67 + 4 = \dots$

$38 + 60 = \dots$      $72 + 7 = \dots$      $43 + 8 = \dots$

$76 - 30 = \dots$      $96 - 4 = \dots$      $54 - 6 = \dots$

$84 - 50 = \dots$      $68 - 6 = \dots$      $76 - 9 = \dots$

**3. Oblicz i wpisz znaki: <, >, =**

$68 \dots 86$

$90 \dots 19$

$32 \dots 76$

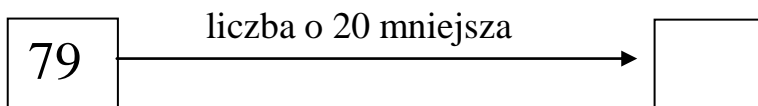
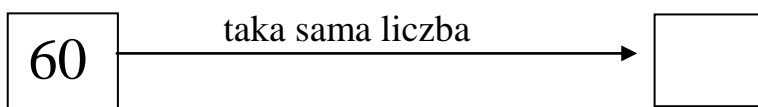
$50 \dots 49$

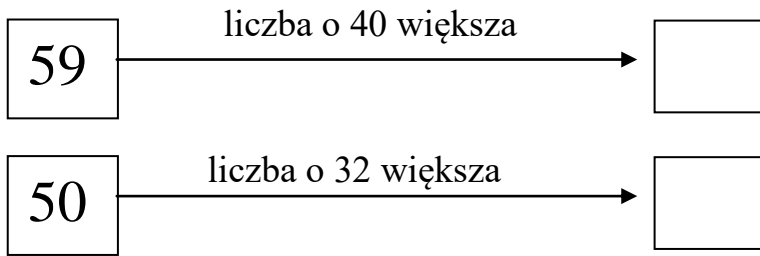
$\bigcirc$   
 $45 + 7 \dots 55$

$\bigcirc$   
 $54 - 6 \dots 42$

$\bigcirc$   
 $66 + 8 \dots 74$

**4. Wpisz w okienka właściwe liczby.**





5. Napisz wszystkie liczby od 42 do 53

.....

6. Oblicz i wpisz brakujące liczby.

$$67 + \boxed{\phantom{00}} = 72$$

$$32 + \boxed{\phantom{00}} = 42$$

$$\boxed{\phantom{00}} - 12 = 50$$

$$86 - \boxed{\phantom{00}} = 40$$

7. Przeczytaj zadanie, wykonaj obliczenie i zaznacz poprawne rozwiązanie.

Jaś miał 37 złotych. Chciał kupić książkę.

Zabrakło mu 8 zł. Jaka jest cena książki?

29 zł

45 zł

37 zł

8. Rozwiąż zadanie.

Olga miała 34 naklejki ze zwierzętami. Koleżance dała 10 naklejek z motylami, a otrzymała 20 naklejek z ptakami. Ile teraz naklejek ma Olga?

Obliczenie: .....

Odpowiedź: .....