

## Pole – rośliny kl. 3

.....

1. Wpisz do tabeli nazwy roślin uprawnych.

Rośliny zbożowe	Rośliny okopowe	Rośliny włókniste
1.....	1. ....	1. ....
2.....	2. ....	2.....
3.....	3. ....	3.....
4.....	4. ....	

2. Odpowiedz na pytania.

- Co otrzymujemy z buraków cukrowych?

.....

- Z czego robi się mąkę?

.....

## Pole – rośliny kl. 3

.....

1. Wpisz do tabeli nazwy roślin uprawnych.

Rośliny zbożowe	Rośliny okopowe	Rośliny włókniste
1. ....	1. ....	1. ....
2.....	2. ....	2. ....
3.....	3. ....	3.....
4.....	4. ....	

2. Odpowiedz na pytania.

- Co otrzymujemy z buraków cukrowych?

.....

- Z czego robi się mąkę?


.....

- Z jakich roślin wytwarza się nici i sznury?

.....

3. Ponumeruj rysunki zgodnie z kolejnością zdarzeń.

### O ziarenka do bochenka


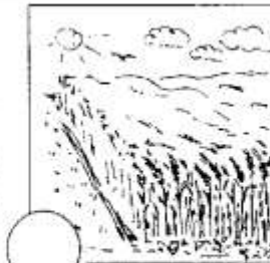


		
<input type="radio"/>	<input type="radio"/>	<input type="radio"/>
mielenie ziarna	wzrost zboża	zbiór zboża
		
<input type="radio"/>	<input type="radio"/>	<input type="radio"/>
kupowanie chleba	siew	pieczenie chleba

- Z jakich roślin wytwarza się nici i sznury?

.....

3. Ponumeruj rysunki zgodnie z kolejnością zdarzeń.

### O ziarenka do bochenka

		
<input type="radio"/>	<input type="radio"/>	<input type="radio"/>
mielenie ziarna	wzrost zboża	zbiór zboża
		
<input type="radio"/>	<input type="radio"/>	<input type="radio"/>
kupowanie chleba	siew	pieczenie chleba