













3	2	5	4	1	3	0	7	6	8	9	10	:3

2	2		4		3			7		9	10	:2
	6		2		0	16		12				

	0	1	2	3	4	5	6	7	8	9	10
1											
2											
3											

4	2	0	8	6	3	5	1	7	10	9	4	:4

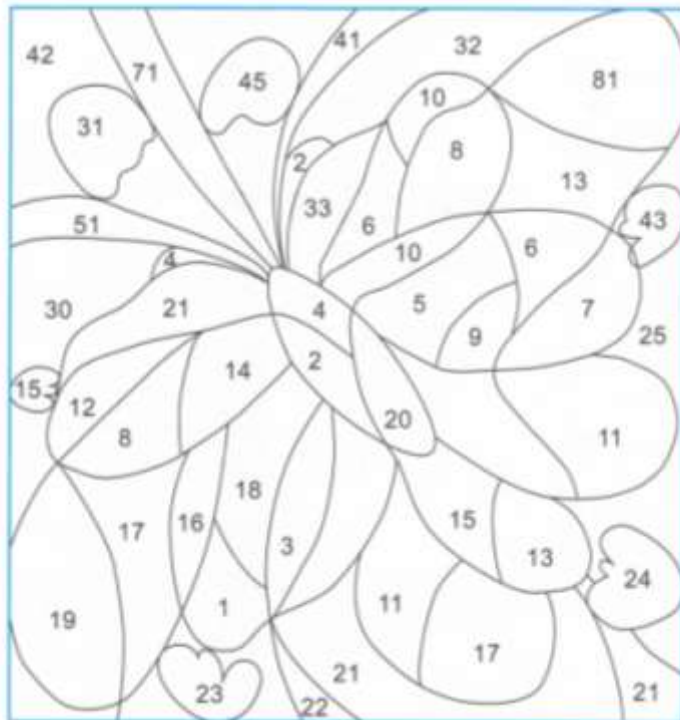
Oblicz, ile punktów na trasie zdobyła każda mysz.
Jeśli wyniki ułożysz w kolejności malejącej otrzymasz hasło (uporządkuj litery).

	•2	<input type="text"/>	:4	<input type="text"/>	•3	<input type="text"/>	:6	<input type="text"/>	<input type="text"/>		M E T A
	•6	<input type="text"/>	:10	<input type="text"/>	•8	<input type="text"/>	:6	<input type="text"/>	<input type="text"/>		
	•6	<input type="text"/>	:7	<input type="text"/>	•6	<input type="text"/>	:4	<input type="text"/>	<input type="text"/>		
	•3	<input type="text"/>	•5	<input type="text"/>	:9	<input type="text"/>	•6	<input type="text"/>	<input type="text"/>		
	•2	<input type="text"/>	:3	<input type="text"/>	:2	<input type="text"/>	•7	<input type="text"/>	<input type="text"/>		
	•10	<input type="text"/>	:4	<input type="text"/>	•8	<input type="text"/>	:4	<input type="text"/>	<input type="text"/>		

Oblicz działania.

Wyniki odszukaj na obrazku i zamaluj dowolnym kolorem.

$\cdot 2$	$: 2$	$\cdot 2$	$: 2$
1	2	6	12
2	4	7	14
3	6	8	16
4	8	9	18
5	10	10	20



Pociąg wjechał na peron. Dzyń! Dzyń! Proszę wsiadać! Wpisz odpowiedzi. Masz czas, pociąg odjeżdża dopiero za pół godziny.

