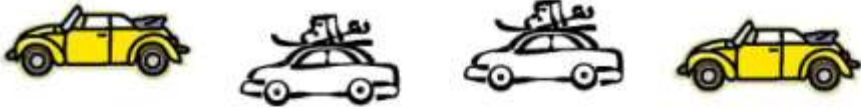


Zadanie 1.

Do 4 samochodów wsiadły po 4 osoby.  
Ile osób jechało we wszystkich samochodach?

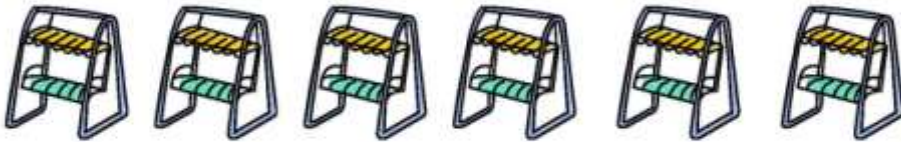


Działanie:.....

Odpowiedź: .....

Zadanie 2.

Dzieci bawiły się na placu zabaw. Do 6 huśtawek ustawiło się po 4 dzieci.  
Ile dzieci było na placu zabaw?



Działanie:.....

Odpowiedź: .....

Zadanie 3.

Tomek na 3 półkach ustawiał po 4 książki.  
Ile książek razem ustawiał Tomek?

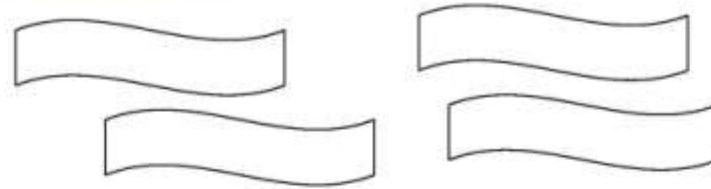
książki

Działanie:.....

Odpowiedź: .....

Zadanie 5.

Ogrodnik posadził na 4 grządkach po 5 kwiatów.  
Ile kwiatów było razem?



Działanie:.....

Odpowiedź: .....

Zadanie 6.

Na urodziny Kasi przyszły koleżanki. Kasia dała 6 dziewczynkom po 5 balonów.  
Ile balonów rozdała Kasia?



Działanie:.....

Odpowiedź: .....

Zadanie 7.

Dzieci schowały do 3 pudełek po 5 klocków.  
Ile klocków było schowane w pudełkach?



Działanie:.....

Odpowiedź: .....