


Sprawdzian – edukacja matematyczna – kl. II (rząd 1)

.....

1. Dorysuj wskazówki na każdym zegarze tak, aby wskazywały godzinę podaną na tabliczce.



4.00



11.00



7.00



15.00



19.00





22.00

2. Narysuj wskazówki na bocznych zegarach zgodnie z opisem. Napisz godzinę pod każdym zegarem.

2 godziny wcześniej

3 godziny później



4. Oblicz i wpisz ile upłynie godzin:

- od godziny 12.00 do godziny 16.00 upłyną godziny
- od godziny 11 do godziny 20.00 upłynie godzin
- od godziny 16 do godziny 19 upłyną godziny
- od godziny 10.00 do godziny 12.00 w nocy upłynie godzin.

Zadanie dodatkowe na 6

5. Przeczytaj plan pracy, pytanie i zakoloruj ramkę z poprawną odpowiedzią.

Oto plan pracy doktora Drapałki

od 8.00 do 12.00 praca w lecznicy
od 13.00 do 15.00 wizyta w zoo
od 17.00 do 18.00 wizyty domowe


Co zaplanował doktor Drapałka
na godzinę dziesiątą piętnaście?

wizytę w zoo
pracę w lecznicy
wizyty domowe
nic nie zaplanował

Sprawdzian – edukacja matematyczna – kl. II (rząd 2)

.....

1. Dorysuj wskazówki na każdym zegarze tak, aby wskazywały godzinę podaną na tabliczce.



6.00



10.00



3.00



13.00



20.00





23.00

2. Narysuj wskazówki na bocznych zegarach zgodnie z opisem. Napisz godzinę pod każdym zegarem.

2 godziny wcześniej



3 godziny później



4. Oblicz i wpisz ile upłynie godzin:

- od godziny 12.00 do godziny 17.00 upłynie godzin
- od godziny 10 do godziny 21.00 upłynie godzin
- od godziny 14 do godziny 18 upłyną godziny
- od godziny 10.00 do godziny 11.00 w nocy upłynie godzin.

Zadanie dodatkowe na 6

5. Przeczytaj plan pracy, pytanie i zakoloruj ramkę z poprawną odpowiedzią.

Oto plan pracy doktora Drapałki

od 8.00 do 12.00 praca w lecznicy
od 13.00 do 15.00 wizyta w zoo
od 17.00 do 18.00 wizyty domowe

Co zaplanował doktor Drapałka
na godzinę czternastą piętnaście?

wizytę w zoo
pracę w lecznicy
wizyty domowe
nic nie zaplanował